

5.



Sosyal bilgiler dersinde yeteneklerimizin, ilgi ve isteklerimizin farkına varır, yaşadığımız çevre ve dünya hakkında bilgi ediniriz. Türk tarihini ve kültür çeşitliliğini öğreniriz. Kanunlar önünde herkesin eşit olduğunu görürüz.

Sosyal bilgiler dersinin, aşağıdakilerden hangisinin öğrenilmesinde etkili olduğu söylenemez?

- A) Atatürk ilke ve inkılaplarının
- B) Ülkemizin coğrafi özelliklerinin
- C) Kendimize uygun olan mesleğin
- D) Asal sayıların

6.

Söyle bakalım Ece. Benim dersimde şimdiye kadar neler öğrendin?



Anadolu'da hangi dönemlerde hangi medeniyetlerin yaşadığını, Türklerin yaşadığı bölgeleri, yöresel özelliklerini ve vatandaş olarak hangi haklara sahip olduğumu öğrendim.

Buna göre, Ece'nin öğrendiklerinin aşağıdaki bilim dallarından hangisiyle ilgili olduğu söylenemez?

- A) Tarih
- B) Coğrafya
- C) Biyoloji
- D) Kronoloji

7.

Toplumsal yaşam, insana birtakım sorumluluklar ve görevler yükler. Toplumsal yaşamın düzenli ve sorunsuz devam etmesi için her birey üstüne düşen sorumluluğu yerine getirmelidir. Sorumluluk bilincinin gelişmediği toplumlarda işler düzenli yürümez. İnsanların görevlerini aksatmaları toplumsal sorunlara ve kargaşaya neden olur. Bu nedenle de bireylerin sorumluluk bilinci içinde hareket etmeleri gerekir.

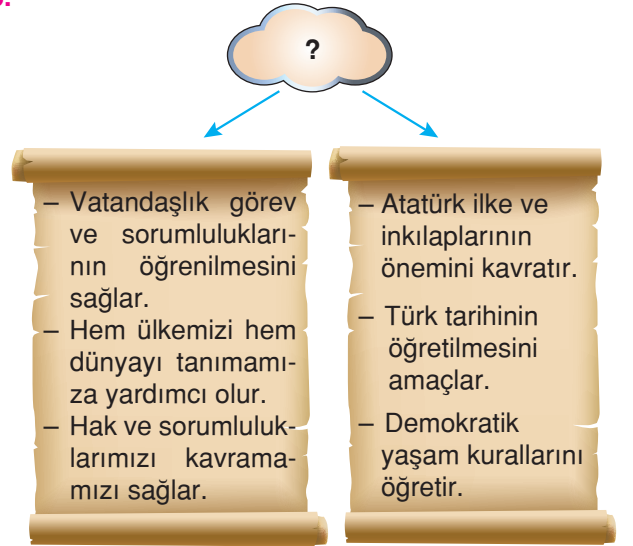
Yukarıdaki açıklamada;

- I. Toplumsal yaşamın düzenli ve sorunsuz devam etmesi için ne yapılmalıdır?
- II Sorumluluklar yerine getirilmediğinde hangi durumlar ortaya çıkabilir?
- III. Bireylerin sorumluluk bilinci içinde hareket etmelerinin nedenleri nelerdir?

sorularından hangilerinin yanıtlarına ulaşılabılır?

- A) Yalnız I
- B) Yalnız II
- C) II ve III
- D) I, II ve III

8.



Yukarıdaki diyagrama verilebilecek en uygun başlık aşağıdakilerden hangisidir?

- A) Hak ve Sorumluluklarımız
- B) Sosyal Bilgiler Dersinin Faydaları
- C) Temel Hak ve Özgürlüklerimiz
- D) Bilimsel Araştırma Basamakları

1.



Ülkemizde elektrik üretmek amacıyla termik santral inşa edilmesi havadaki oksijen oranının düşmesine ve solunum sorunlarının yaşanmasına neden olur.

Sosyal bilgiler öğretmeninin bu açıklaması doğrultusunda ihlal edilen insan hakkını, aşağıdaki öğrencilerden hangisi doğru olarak açıklamıştır?

Sağlıklı çevrede yaşama

A)



Özel yaşamın gizliliği

B)



Eğitim görme

C)




Konut dokunulmazlığı

D)



2.

Sevgili öğrenciler! Hava, su ve toprak kirliliği genel çevre kirliliğidir. Hava kirliliğine neden olan etkenler nelerdir?



Sosyal bilgiler öğretmeninin bu sorusuna, yukarıdaki öğrencilerden hangileri doğru yanıt vermiştir?

A) Yalnız Mert

B) Mert ve Canan

C) Canan ve Ece

D) Mert, Canan ve Ece

3.

Olayın tüm yönlerini etki ve sonuçlarıyla göz önüne alıyorum.



Ebru

Olayla ilgili bilimsel verilere bakıyorum.



Ali

Olayların sadece olumsuz yönlerine vurgu yapıyorum.



Gaye

Olayların birçok yönden ele alınması gerektiğine inanıyorum.



Nefise

Bir olay hakkında karar verirken hangisinin tutumu **yanlıştır**?

A) Ebru'nun

B) Ali'nin

C) Gaye'nin

D) Nefise'nin

4. Türkiye'deki doğal kaynakların bilinçsizce ve aşırı şekilde kullanımı doğadaki dengeyi bozarak bazı çevre sorunlarının yaşanmasına neden olmuştur.

Buna göre aşağıdakilerden hangisinin, çevre sorunlarının oluşumuna karşı alınması gereken önlemlerden biri olduğu **söylenemez**?

A) Suların sorumsuzca kullanılmasının önlenmesi

B) Bilinçsizce yapılan ağaç kesimlerinin engellenmesi

C) Fabrikaların şehir merkezlerine yakın yerlere kurulmasının sağlanması

D) Çevre kirliliği konusunda halkın bilinçlendirilmesi

5. **Öğretmen:** Çocuklar, bir yörede maden ocağının açılması o yörede birçok şeyin değişmesine sebep olur. **Sizce maden ocağının açılmasıyla yörede neler değişebilir?**

Arda: Ulaşım gelişir.

Ali: İş olanakları artar.

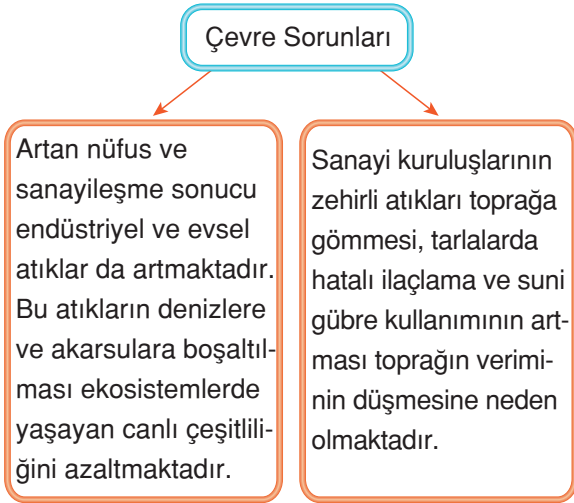
Mert: Yöre dışına göç başlar.

Cem: Yörenin geliri artar.

Buna göre, hangi öğrencinin verdiği yanıt doğru **değildir?**

- A) Arda'nın
C) Mert'in
B) Ali'nin
D) Cem'in

6.



Verilen diyagramda;

- I. Su kirliliği,
II. Toprak kirliliği,
III. Hava kirliliği

gibi çevre sorunlarından hangilerine **değinimemiştir?**

- A) Yalnız I
C) Yalnız III
B) Yalnız II
D) II ve III

7.



Spil Dağı alev alev

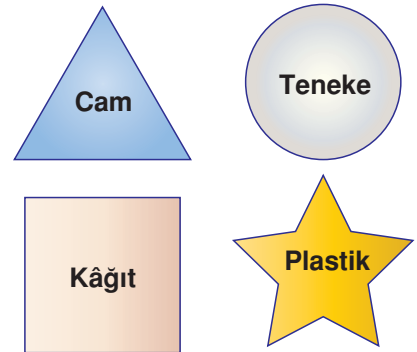
MANİSA Spil Dağı Millî Parkı Mevlevihane üstünde henüz belirlenemeyen bir nedenle yangın çıktı. Kızılcım ağaçlarıyla kaplı alanda, rüzgârların da etkisiyle hızla yayılan yangına müdahale için ekipler seferber oldu.

Müdahale edilmekte güçlük çekilen yangın kısa sürede 10 hektarlık alana yayıldı. Kent merkezinden de gözlemlenebilen yangın nedeniyle güvenlik güçleri, millî parka giden yolu araç trafiğine kapattı.

Gazete haberindeki olay için, hangi yorum yapılamaz?

- A) Doğaya zarar vermiştir.
B) İnsan etkisiyle ortaya çıkmıştır.
C) Çok boyutludur.
D) Canlı yaşamına zarar vermiştir.





8.



Geri dönüşüm kutusuna atabileceğimiz atıkların bulunduğu şekiller birleştirildiğinde seçeneklerden hangisi meydana gelir?

- A) Yalnız ▲
C) ● ve ■
B) ▲ ve ●
D) ▲, ●, ■ ve ★

1. Aşağıdaki konuşmalardan hangisi sorumluluk ifade eder?

- A)  Evde kararlar alınırken benim görüşlerim de alınıyor.
- B)  Okuldaki ve sınıftaki eşyaları koruyorum.
- C)  Mahallemizdeki oyun parkında arkadaşlarımla oynuyorum.
- D)  Teneffüslerde arkadaşlarımla sohbet edebiliyorum.

2.

Herkes sağlıklı bir çevrede yaşama hakkına sahiptir. Bu hakkı kullanabilmek için bazı sorumlulukların yerine getirilmesi gerekir.

Buna göre, aşağıdakilerden hangisi bu sorumluluklar arasında yer alır?

- A) Odamızı toplamak
B) Ders çalışmak
C) Yerlere çöp atmamak
D) Alışverişlerimizde fatura almak
3. Bir kimsenin, üzerine aldığı rolün gereklerini yerine getirmesine adı verilir. Tanımdaki boş bırakılan yere, aşağıdakilerden hangisi yazılabilir?

- A) kurum
B) aile
C) özgürlük
D) sorumluluk

4.



Eşleştirme tablosundaki numaralandırılmış yerlere sırasıyla aşağıdakilerden hangisi getirilmelidir?

- | | | |
|---------------|---------------|---------------|
| _____ 1 _____ | _____ 2 _____ | _____ 3 _____ |
| A) Sorumluluk | Hak | Sorumluluk |
| B) Hak | Sorumluluk | Sorumluluk |
| C) Hak | Hak | Sorumluluk |
| D) Sorumluluk | Sorumluluk | Hak |

5. Aşağıdakilerden hangisi 5. sınıf öğrencisi olan Merve'nin sorumlulukları arasında **yer almaz**?

- A) Ödevlerini yapması
B) Dişlerini fırçalaması
C) Okuldan sonra çalışarak aile bütçesine katkıda bulunması
D) Odasını toplaması

6. Yasaların bize sağladığı imkânlarla ❀ denir. Tanımdaki "❀" olan yere aşağıdaki kavramlardan hangisi gelmelidir?

- A) hukuk
B) hak
C) eşitlik
D) şans

7.



Bir Öğrenci Bir Fidan

Kırıkkale Millî Eğitim Müdürlüğü, ilköğretim öğrencilerinde ağaç ve çevre bilincini geliştirmek, tohumdan meyve fidanı yetiştirmek ve bu fidanları dikmek amacıyla "Bir Öğrenci Bir Fidan Projesi" adı altında toplantı gerçekleştirildi.

Örnek Olacak

Toplantıda çevre illere örnek olacak bir projenin hayata geçirilmesine yönelik kararlar alındı.

Gazete haberindeki çocuklar için aşağıdakilerden hangisi söylenebilir?

- A) Derslerine gereken önemi vermemişlerdir.
- B) Sorumluluk bilinciyle hareket etmişlerdir.
- C) Arkadaşlarıyla ilişkilerini bozmuşlardır.
- D) Ailelerinden gerekli harçlığı alamamışlardır.

8.

Müdür ve müdür yardımcısına yazışma ve evrakların kaydedilip dosyalanması işlerinde yardımcı olurlar.

Verilen bilgilerde okul görevlilerinden hangisinin görev ve sorumlulukları belirtilmiştir?

- A) Güvenlik görevlisi
- B) Memur
- C) Hizmetli
- D) Sınıf başkanı

9.

1 Okula gidebilmek

2 Düşündüklerimizi dile getirmek

3 Verilen ödevleri zamanında yapmak

4 Elektrik, su, kâğıt gibi kaynakları israf etmemek

Numaralandırılmış ifadelerden hangileri sorumluluktur?

- A) 1 ve 2
- B) 1 ve 3
- C) 2 ve 3
- D) 3 ve 4

10. Aşağıdaki bilgileri hak ya da sorumluluk olarak değerlendiriniz.

		Hak	Sorumluluk
a.	Odamı düzenli tutarım.		
b.	Oyun oynamam için gerekli araçlara sahibim.		
c.	Derslerimde başarılı olmak için gayret ederim.		
d.	Eğitimim için gerekli ihtiyaçlarım sağlanır.		

1.

Çocuk Hakları Sözleşmesi

Madde 7:

Her çocuğun isim hakkı ve vatandaşlık hakkı vardır.

**Buna göre, aşağıdakilerden hangisi yanlıştır?**

- A) Çocuğa doğduğu zaman bir isim konulur.
- B) Devlet her vatandaşına resmî kimlik verir.
- C) Nüfus cüzdanı okul çağına geldiğinde verilir.
- D) İsim, resmî kayıtlara geçer.

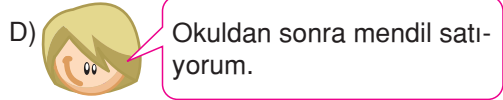
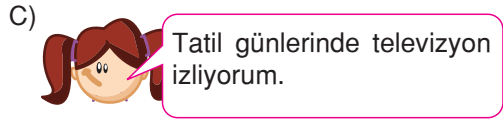
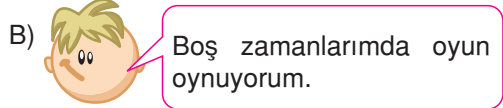
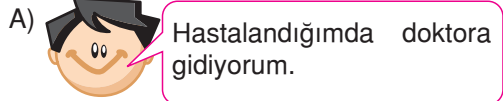
2. Aşağıda Çocuk Hakları Sözleşmesi'nin bir maddesiyle ilgili bilgi verilmiştir.

**Madde 14**

Tarağ devletler, çocuğun düşünce, vicdan ve din özgürlükleri hakkına saygı gösterirler.

Aşağıdaki görsellerin hangisinde Çocuk Hakları Sözleşmesi'ne aykırı bir durum vardır?

3. Aşağıdakilerden hangisi Çocuk Hakları Sözleşmesi'ne aykırı bir durumdur?



4.

Çocuk Hakları Sözleşmesi'ne göre insanlar kaç yaşına kadar yasalar karşısında çocuk kabul edilmiştir?

- A) 15 B) 16 C) 17 D) 18

5. Çocuk Haklarına Dair Sözleşme'nin ülkemizde uygulama ve takip işini aşağıdaki kurumlardan hangisi yapmaktadır?

- A) Sosyal Hizmetler ve Çocuk Esirgeme Kurumu
B) Sosyal Sigortalar Kurumu
C) İş ve İşçi Bulma Kurumu
D) Nüfus Müdürlüğü

6.



Yukarıdaki görsel, Çocuk Hakları Sözleşmesi'nin hangi maddesiyle ilgilidir?

- A) Her çocuğun eğitim görme hakkı vardır.
- B) Her çocuğun doğduğu anda bir adı ve devletin vatandaşı olma hakkı vardır.
- C) Her çocuğun yaşama hakkı vardır.
- D) Çocuklar kendileri ile ilgili görüş ve düşüncelerini özgürce açıklamaya hakkına sahiptir.

7.



Görselin belirttiği hak aşağıdakilerden hangisidir?

- A) Yaşama Hakkı
B) Eğitim Hakkı
C) Seçme ve Seçilme Hakkı
D) Çalışma Hakkı

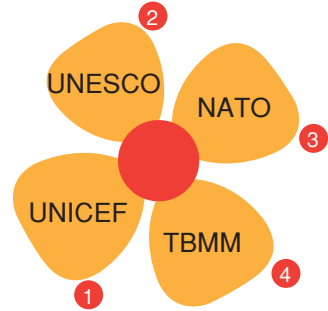
8.



Numaralandırılmış haklardan hangisi bütün insanların en önemli hakkıdır?

- A) 1 B) 2 C) 3 D) 4

9.



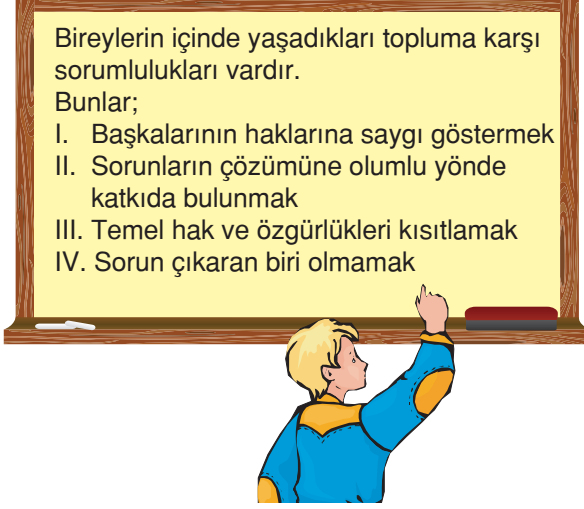
Yukarıdaki çiçeğin kaç numaralı yaprağında yer alan kuruluş çocuk haklarını korumak için kurulmuştur?

- A) 1 B) 2 C) 3 D) 4

10. 5. sınıfa giden bir öğrencinin kullanamayacağı hakkın kutusunu işaretleyiniz.

A.	Seçme ve Seçilme Hakkı	
B.	Eğitim Hakkı	
C.	Haberleşme Hakkı	
D.	Bilim ve Sanat Hakkı	

1.



Sosyal bilgiler dersinde Deniz'in tahtaya yazdığı yukarıdaki bilgilerden hangisinin doğru olduğu **söylenemez**?

A) I B) II C) III D) IV

2. Aşağıdaki kurumlardan hangisi sağlık ihtiyacı için kurulmuştur?



Okul



Hastane



Karakol



Postane

3. Aşağıdakilerden hangisi ailemize karşı sorumluluklarımız arasında **yer almaz**?

- A) Odamızı düzenli tutmak
B) Giysilerimizi dolabımıza yerleştirmek
C) Dersi dikkatli dinlemek
D) Ev kurallarına uymak

4.

Bir konuda iki ya da daha fazla ülke arasında imzalanan hukuki belgedir.

Yukarıda tanımı verilen kavram hangisidir?

- A) Kimlik
B) Sözleşme
C) Bildirge
D) Beyanname

5. Aşağıdakilerin hangisinde okulda ve akrabalar arasındaki rolümüz bir arada verilmiştir?

	Okul	Akraba
A)	Öğrenci	Baba
B)	Oyuncu	Müşteri
C)	Müdür	Kaptan
D)	Öğrenci	Kuzen

6.



Büyük devletler kuran atalarımız, büyük ve kapsamlı medeniyetlere de sahip olmuşlardır. Bunları aramak, incelemek, Türkiye ve dünyaya bildirmek bizler için bir borçtur.

Mustafa Kemal Atatürk'ün bu açıklaması, aşağıdaki özelliklerden hangisine sahip olduğunu gösterir?

- A)  İleri görüşlü
- B)  Tarih bilincine sahip
- C)  Demokrasi bilinci gelişmiş
- D)  Laik devleti savunan

7. Aşağıdakilerden hangisi çocuk hakları arasında **yer almaz**?

- A) Yaşama Hakkı
- B) Eğitim Hakkı
- C) Sağlıklı Bir Çevrede Yaşama Hakkı
- D) Çalışma Hakkı

8.



Sorumluluklarımızı yerine getirmediğimizde neler olur?

Ayşe Öğretmen'in sorusuna aşağıdaki öğrencilerden hangisi doğru cevap vermiştir?

- A)  Düzen sağlanır.
- B)  Hoşgörü ortamı meydana gelir.
- C)  Aile birliği güçlenir.
- D)  Toplumda karmaşa meydana gelir.

9.

- 1 Çocukların bakımı, evin temizlik ve ihtiyaçları ortaklaşa yapılmalıdır.
- 2 Anne ve baba, çocukların gerekli eğitimi almasını sağlamalıdır.
- 3 Aile bireyleri arasında hiçbir şekilde ayrımcılık yapılmamalıdır.

Numaralandırılmış ifadelerden hangileri aile birliğine katkı sağlar?

- A) 1 ve 2
- B) 1 ve 3
- C) 2 ve 3
- D) 1, 2 ve 3

KÜLTÜR VE MİRAS

1. Doğru ise D, yanlış ise Y harfi yazınız.

- a. Tarih çağları yazının bulunması ile başlar.
- b. Orta Asya'dan Anadolu'ya taşıdığımız geleneksel el sanatlarımızın başında halıcılık gelir.
- c. Ülkemizde Roma, Bizans, Selçuklu ve Osmanlı dönemlerine ait pek çok tarihi eser bulunmaktadır.
- d. İstanbul, saray, cami, türbe gibi pek çok doğal güzelliklere sahiptir.
- e. Ülkemizin hemen her yöresinde aynı halk oyunları oynanır.

2. Noktalı yerlere uygun ifadeleri yazınız.

Mezopotamya

Lidyalılar

Ziggurat

Hititler

Bayramlar

- a. Dicle ve Fırat nehirleri arasındaki bölgeye denir.
- b. Sümerler tarafından yapılan tapınaklara denir.
- c. ilk Anadolu uygarlığıdır.
- d. Ticareti kolaylaştırmak için takas usulüne son vererek ilk madeni parayı kullanmıştır.
- e. Milli ve dini birlik ve beraberliği kuvvetlendirir.

3. Aşağıda verilen tarihi eser ise "T", doğal varlık ise "D" yazınız.



Ölüdeniz



İshat Paşa Sarayı



Uzungöl



Ayasofya



Peri bacaları



Sultanahmet çeşmesi



Bozdoğan Su Kemerli



Ihlara Vadisi



Rumeli Hisarı

4. Mezopotamya ve Anadolu'da kurulan medeniyetler ile dünya medeniyetine katkılarını eşleştiriniz.

1.

Sümerler

2.

Asurlular

3.

Babiller

4.

Hititler

5.

Frigler

6.

Urartular

7.

Lidyalılar

8.

İyonlar



Tarihin bilinen ilk yazılı antlaşmasını yaptılar.



Hammurabi kendi adını taşıyan kanunları ile ünlüdür.



Yazıyı ilk kez buldular.



Güneş yılı esasına dayanan takvimi buldular.



Anadolu'ya yazıyı taşıdılar.



Çengelli iğne Fibulayı ilk kullananlar



Özgür düşünce sayesinde bilimin gelişmesine katkı sağladılar.



İlk parayı kullandılar.



Latin alfabesinin oluşumuna katkıda bulundular.



Başkentleri Tuşpa olan medeniyet sulama kanalları yaptı.

1.



Van Gölü çevresinde kurulan Urartular barajlar ve sulama kanalları yapmışlar, Asur çivi yazısını kullanmışlardır.

Ersin'in verdiği bilgilere göre Urartular ile ilgili;


- I. Mezopotamya uygarlıklarından etkilendikleri,
 - II. Anadolu'da kuruldukları,
 - III. Tarım ile uğraştıkları
- yargılarından hangilerine ulaşılabilir?**

- A) Yalnız I
- B) I ve II
- C) I ve III
- D) I, II ve III

2. Hititlere ait bir kil tablet üzerinde krala hitaben şunlar yazılıdır: "Yoksul ve kimsesizleri doyur. Hastalara bak. Onlara ekmek ve su ver. Eğer sıcaktan bunalıyorlarsa onları serinlet, soğuktan üşüyorlarsa sığağa götür. Aç olana ekmek, hastaya merhem, çıplağa giysi ver."
- Bu tabletteki bilgilere bakılarak, aşağıdaki yargılardan hangisine ulaşılabilir?**

- A) Kralın temel görevi halka hizmet etmektir.
- B) Halka özel mülkiyet hakkı tanınmıştır.
- C) Hititlerde sınıf farklılıkları görülmüştür.
- D) Ağır hükümler içeren yasalar yapılmıştır.

3.



Sümerler yedi katlı tapınaklar yapmışlar ve tapınağın en üst katında rasathane açmışlardır.

Bu duruma göre Sümerlerin;

- I. Astronomi
- II. Arkeoloji
- III. Antropoloji

bilim dallarından hangilerinde gelişme gösterdikleri söylenebilir?

- A) Yalnız I
- B) Yalnız II
- C) I ve II
- D) II ve III

4. İlk Çağ'da Lidyalılar Ege'den Mezopotamya'ya kadar uzanan ve Kral Yolu olarak bilinen ticaret yolunu yapmışlardır.

Bu durumun;

- I. Anadolu ve Mezopotamya arasında ticari ilişkilerin gelişmesi,
 - II. Anadolu ve Mezopotamya uygarlıkları arasında kültürel etkileşimin yaşanması,
 - III. Anadolu'da yerleşik hayatın başlaması
- gelişmelerinden hangilerine ortam hazırladığı savunulabilir?**

- A) Yalnız I
- B) Yalnız II
- C) I ve II
- D) II ve III

5. Tarihte parayı kullanan ilk uygarlık →?.....
- Thales, Pisagor, Hipokrat gibi bilim adamlarının yetiştiği uygarlık →?.....
- Fibula adıyla çengelli iğneyi icat eden uygarlık →?.....

Verilen diyagramda “?” olan yerlere sırasıyla aşağıdakilerden hangisi getirilmelidir?

- A) Frigler – Lidyalılar – İyonlar
 B) Lidyalılar – Frigler – İyonlar
 C) İyonlar – Lidyalılar – Frigler
 D) Lidyalılar – İyonlar – Frigler



Defne'nin evine ulaşabilmesi için Lidyalılara ait özelliklerin bulunduğu yollardan gitmesi gerekiyor.

Buna göre, Defne hangi yoldan giderse evine ulaşamaz?

- A) 1 B) 2 C) 3 D) 4

7. İlk Çağ Mezopotamya uygarlıklarından Asurluların Anadolu uygarlıklarına en önemli katkısı nedir? →?.....
- 

Gamze'nin bu sorusuna, Gülşen aşağıdaki cevaplardan hangisini verirse doğru olur?

- A) Kısas ilkesine dayalı yasalar hazırlamaları
 B) Anadolu'ya yazıyı getirmeleri
 C) İlk atlı birlikleri oluşturmaları
 D) Anadolu'da ticaret kolonileri kurmaları

8. – Tanrılarına hesap vermek amacıyla Anallar (yılıklar) oluşturmuşlardır.
 – Başkenti Hattuşaş'tır.
 Yukarıda özellikleri verilen Anadolu uygarlığı aşağıdakilerden hangisidir?

- A) Frigler B) Urartular
 C) Hititler D) İonyalılar


9. İonyalılarda, pozitif bilimler gelişme göstermiştir. Matematik ve geometride Tales ve Pisagor, tıpta Hipokrat, tarihte Herodot önemli gelişmeler sağlamıştır.

Buna göre, İonyalılar ile ilgili aşağıdakilerden hangisine ulaşılabilir?

- A) Özgür düşünce ortamı vardır.
 B) Şehir devletleri hâlinde örgütlenmişlerdir.
 C) Deniz ticaretiyle uğraşmışlardır.
 D) Merkezî otoriteyi sağlayamamışlardır.

1. İlk Çağ'da Anadolu'da Hititler, Frigler ve Urartular daha çok tarımla, Lidyalılar ve İyonlar ise ticaretle uğraşmışlardır.

Anadolu uygarlıklarının farklı ekonomik uğraşları benimsemelerinde;



özelliklerinden hangilerinin etkili olduğu ileri sürülebilir?

- A) Yalnız I
B) Yalnız II
C) Yalnız III
D) I, II ve III
2. Sümerler cennet ve cehennem kavramları ile ilgilenmemişlerdir. Onlar için mutluluk da felaket de dünyadadır ve tanrılara tapınmak, almak için vermektir.

Bu bilgilere göre, Sümerler ile ilgili;

- I. Askerî yönden güçlü oldukları,
II. Ölümünden sonra yaşam inancının olmadığı,
III. Tek tanrılı dinsel inanın olduğu
- yargılarından hangilerine ulaşılabilir?**

- A) Yalnız I
B) Yalnız II
C) II ve III
D) I, II ve III

3.



Buna göre İyonlarla ilgili aşağıdaki yargılardan hangisine ulaşamaz?

- A) Anadolu'da güçlü bir krallık kurdukları
B) Siyasi birliğin bulunmadığı
C) Kültürel etkileşim yaşanmasında etkili olduğu
D) Bilimsel ve kültürel gelişmeler için uygun ortamın bulunduğu

4. Friglerin tarımsal üretimi koruyucu yasalar hazırlamasında;



durumlarından hangilerinin etkili olduğu söylenebilir?

- A) Yalnız I
B) I ve II
C) I ve II
D) I, II ve III

5. Lidyalılar bugünkü Manisa yakınlarında Sardes merkez olarak kurulmuştur. Kral Yolu'nu kullanarak kara ticaretinde gelişme göstermişlerdir. Buldukları bölgede şehirler kurarak onların etrafını surlarla çevirmişlerdir.

Bu bilgiye dayanarak Lidyalılarla ilgili;

- I. Batı Anadolu'da kurulmuştur.
- II. Savunmaya önem vermişlerdir.
- III. Kısa sürede yıkılmışlardır.

yargılarından hangilerine ulaşılabilir?

- A) Yalnız I
B) Yalnız II
C) Yalnız III
D) I ve II

6.

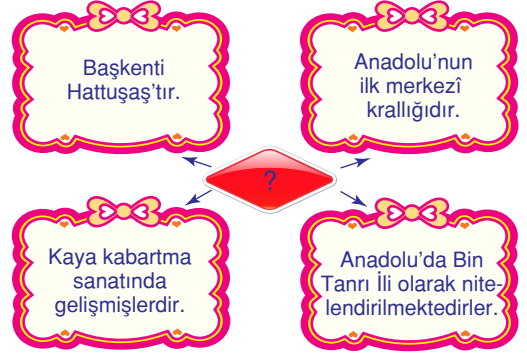


İyon uygarlığında Thales adındaki bilim adamı Lidyalılarla Persler arasında gerçekleşen Kızılırmak Savaşı sırasında Güneş tutulması olacağını önceden hesaplamıştır. Pisagor da matematiği bilim hâline getirmiş, dünyanın yuvarlak olduğu ile ilgili görüşlerini dile getirmiştir.

Sosyal bilgiler öğretmeninin verdiği bilgiler İyon uygarlığı ile ilgili aşağıdakilerden hangisine kanıttır?

- A) Özel mülkiyetin gelişmediğine
B) Bilimsel çalışmalara önem verildiğine
C) Tarım yapılamadığına
D) Kolonicilikle ilgilenildiğine

7.



Verilen diyagramda “?” olan yere aşağıdaki uygarlıklardan hangisi getirilmelidir?

- A) Frigler
B) Lidyalılar
C) Hititler
D) Urartular

8.



Aşağıda Sümerlerle ilgili verilen bilgilerden hangisi yanlıştır?

- A) İlk kez Ay yılı takvimini bulmuşlardır.
B) Gılgamış Destanı, Sümerlere aittir.
C) Ziggurat denilen tapınakları yapmışlardır.
D) Fibula denilen çengelli iğneleri bulmuşlardır.

9. **Aşağıdakilerden hangisi Sümerlere aittir?**

- A) Tavananna denilen kraliçeleri bulunmaktadır.
B) Pankuş adındaki meclisleri vardır.
C) Patesi denilen rahip kralları vardır.
D) Bin tanrı ili olarak da bilinirler.

1. Aşağıdaki verilenlerin doğal varlık mı yoksa tarihî eser mi olduklarını ilgili kutucuğa "✓" sembolü koyarak belirtiniz.

	Doğal Varlık	Tarihî Eser
Akarsu		
Su kemeri		

Buna göre, etkinliğin doğru olabilmesi için aşağıdaki cevap anahtarlarından hangisi kullanılmalıdır?

A)

	Doğal Varlık	Tarihî Eser
Akarsu	✓	
Su kemeri	✓	

B)

	Doğal Varlık	Tarihî Eser
Akarsu		✓
Su kemeri		✓

C)

	Doğal Varlık	Tarihî Eser
Akarsu	✓	
Su kemeri		✓

D)

	Doğal Varlık	Tarihî Eser
Akarsu		✓
Su kemeri	✓	

2.



Karatay Medresesi



Roma Hamamı

Yukarıdaki tarihî eserler, hangi bölgemizde yer alır?

- A) Akdeniz Bölgesi
B) İç Anadolu Bölgesi
C) Doğu Anadolu Bölgesi
D) Güneydoğu Anadolu Bölgesi

3.

Adı nedir?

Hangi ilimizdedir?

Nasıl oluşmuştur?



Verilen etkinliğin boş bırakılan yerlerine aşağıdakilerden hangisi yazılamaz?

- A) Traverten
B) İzmir
C) Denizli
D) Kirecin birikmesiyle

4. Aşağıda, yurdumuzdaki doğal güzelliklerden bir tanesi verilmiştir.



Manyas Kuş Cenneti

Verilen doğal varlığın bulunduğu yerde yapılabilecek etkinlik aşağıdakilerin hangisinde doğru olarak verilmiştir?

- A) Rafting
B) Kayak yapma
C) Yüzme/güneşlenme
D) Kuş fotoğrafçılığı

5. • Çifteminareli Cami (.....)
• Safranbolu Evleri (.....)
• Yerebatan Sarnıcı (.....)

Verilen tarihî eserlerin bulunduğu şehirler arasında aşağıdakilerden hangisi **yoktur**?

- A) İstanbul
B) İzmir
C) Karabük
D) Erzurum

6.



Abant Gölü

Melek'in yukarıdaki doğal varlığın olduğu yere gitmesi için kaç numaralı yolu izlemesi gerekir?



- A) 1 B) 2 C) 3 D) 4

7. Aşağıda doğal varlık ve tarihî eserler verilmiştir.



Tapınak



Göl



Dağ



Orman

Kaç numaralı görsel, tarihî eserdir?

- A) 1 B) 2 C) 3 D) 4

8. Aşağıdaki tarihi eserlerin yer aldıkları illerin isimlerini boş bırakılan yerlere yazınız.



Selimiye Camisi

.....



Mevlana Türbesi

.....



Balıklı Göl

.....



Aspendos Tiyatrosu

.....

1. Bir toplumun gelişme süreci içinde meydana getirdiği maddi ve manevi değerlerin tümüne **kültür** denir. Toplumun kendisine ait olan ve onu diğer toplumlardan farklı kılan değerler topluluğudur.



Kültürün unsurları arasında;

- ▲ Din,
- Dil,
- ◆ Giyim ve kuşam

öğelerinden hangileri vardır?

- A) Yalnız ▲ B) ▲ ve ■
C) ▲ ve ◆ D) ▲, ■ ve ◆

2.



Horon, el ele tutuşarak kemençe eşliğinde oynadığımız bir oyundur. Baştan ayağa dalgalanma figürleriyle fırtınalı bölgemizin zorlu yaşamını yansıtır.

Bu konuşmalarda hangi yöreye ait halk oyunundan bahsedilmiştir?

- A) Edirne B) Rize
C) Bitlis D) Aydın

3.



Sümeyye, Kültür ve Miras ünitesinin bir konusu için okul panosuna asılmak üzere bir proje ödevi hazırlamıştır.

Sümeyye'nin hazırladığı proje, hangi konu ile ilgilidir?

- A) Türkülerimiz
B) Fıkralarımız
C) Tekerlemelerimiz
D) Geleneksel el sanatlarımız

4.

Dinî Bayramlar	Mevsimlik Bayramlar
1	2
Ramazan Bayramı	Hıdırellez Bayramı
3	4
Nevruz Bayramı	Kurban Bayramı

Bayramlar ile ilgili tabloyu doğru duruma getirebilmek için kaç numaralı bayramların yerleri değiştirilmelidir?

- A) 1 ve 2 B) 1 ve 4
C) 2 ve 3 D) 3 ve 4

5. • Türkü
• Mani
• Atasözü
• Ninni
• Tekerleme

Verilenlerden kaç tanesi sözlü kültürün öğeleri arasında yer alır?

- A) 2 B) 3 C) 4 D) 5

6. 1. Karadeniz Bölgesi'ndeki düğünler kemençe ve tulum eşliğinde oynanır.
2. Doğu Anadolu Bölgesi'ndeki düğünler davul ve zurna eşliğinde oynanır.
3. Ege Bölgesi'ndeki düğünler kemençe eşliğinde oynanır.

Numaralandırılmış bilgiler doğru ya da yanlış olarak değerlendirildiğinde aşağıdaki cevap anahtarlarından hangisi meydana gelir?

A)	D	Y
1	✓	
2	✓	
3	✓	

B)	D	Y
1	✓	
2	✓	
3		✓

C)	D	Y
1		✓
2		✓
3	✓	

D)	D	Y
1	✓	
2		✓
3	✓	

7.



Verilen yapboza aşağıdakilerden hangisi **ko-nulamaz**?

A) Sözlü kültürün öğesidir.

B) Başlangıçta sahibi belli değildir.

C) Zamanla dil-den dile do-laşır halka mâl olur.

D) Aşıklarca yaşatılır.

8. Aşağıdaki halk oyunlarının **en çok** oynandığı bölgemizi boş bırakılan yerlere yazınız.



Horon

.....



Halay

.....



Hora

.....



Çaydaçıra

.....

1.

Her bölgede tüketilen yemekler farklılık gösterir. Bu durumun sebepleri nelerdir?

Gelenek ve göreneklerin farklı olması

Ekonomik etkinliklerin farklı olması

Atakan

Ayla

Berk

Buse

Nüfus miktarının farklı olması

Beslenme alışkanlıklarının farklı olması

Yukarıdaki öğrencilerden hangisi, öğretmenin sorusuna **yanlış** cevap vermiştir?

- A) Atakan B) Berk
C) Ayla D) Buse

2. Ebru, sosyal bilgiler dersinde öğretmenine aşağıdaki soruları sormuştur.

Soru 1: Kültür, bölgeler arasında farklılık gösterir mi?

Cevap 1: ?

Soru 2: El sanatlarımızda kültürümüzün izleri var mıdır?

Cevap 2: ?

Buna göre, Ebru'nun öğretmeni aşağıdaki cevaplardan hangisini vermiştir?

- Cevap 1 Cevap 2
- A) Evet Evet
B) Hayır Hayır
C) Evet Hayır
D) Hayır Evet

3.



1



2



3



4

Görselleri verilen numaralı el sanatlarımızdan hangisi geçmişte aydınlatma amacıyla kullanılmıştır?

- A) 1 B) 2 C) 3 D) 4

4.



Takvim yaprağındaki tarihte hangi bayram kutlanır?

- A) Ulusal Egemenlik ve Çocuk Bayramı
B) Cumhuriyet Bayramı
C) Nevruz Bayramı
D) Kurban Bayramı

5.



Minik serçe, Türk Dil Kurumunun İnternet sayfasında, aşağıdakilerden hangisini araştırmıştır?

- A) Ramazan Bayramını
- B) Kurban Bayramını
- C) Nevruz Bayramını
- D) Cumhuriyet Bayramını

6.



Görselleri verilen yemekler ile ilgili aşağıdakilerden hangisi doğrudur?

- A) 1 numaralı yiyecek Konya'ya özgüdür.
- B) 2 numaralı yiyecek İzmir'e özgüdür.
- C) 3 numaralı yiyecek Trabzon'a özgüdür.
- D) 4 numaralı yiyecek Kahramanmaraş'a özgüdür.

- 7. • Halay Oyunu
- Horon Oyunu
- Zeybek Oyunu

Yukarıda verilen oyunlar ile ilgili hangi bölge ya da şehir arasında bir ilişki kurulamaz?

- A) Karadeniz
- B) Ege
- C) Bitlis
- D) Edirne

- 8. Aşağıdaki bilgileri doğru ya da yanlış olarak değerlendiriniz.

	D	Y
a. Halk oyunları el ele tutuşarak oynanır.		
b. Hıdırellez dini bir bayramdır.		
c. Hereke, halılarıyla ünlüdür.		
d. Kültür, çevre koşullarından etkilendirilmiştir.		
e. Nasreddin Hoca türküleriyle ünlüdür.		
f. El sanatlarımız süreklilik gösterir.		
g. Kültür öğelerimiz müzelerde korunur.		
h. Ebru, ahşap işçiliğine dayalı bir el sanatıdır.		
ı. Bayramlar toplumsal birliği güçlendirir.		
k. Halk oyunları her bölgede aynı oynanır.		

1.



Mert

Mert yukarıdaki Anadolu Uygarlıkları sepetine aşağıdaki meyvelerden hangisini atarsa yanlış olur?

A)



B)



C)



D)



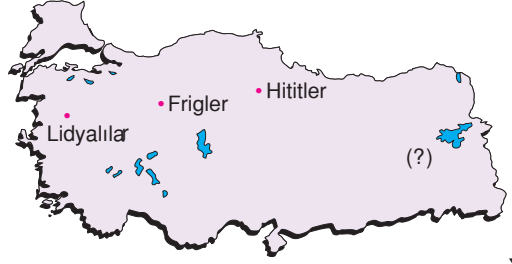
2.



Urartular mezarlarını ev ve oda biçiminde yapıp içine çeşitli eşyalar yerleştirmişlerdir. Bu durum aşağıdakilerden hangisine kanıttır?

- A) Birden fazla tanrıya inandıklarına
- B) Hayatın ölümden sonra da devam ettiğine inandıklarına
- C) Farklı toplumlarla ilişki kurduklarına
- D) Tarih çağlarına geçtiklerine

3.



Yu-

karıdaki haritada İlk Çağ'da Anadolu'da kurulan uygarlıklar verilmiştir.

Buna göre, “?” olan yerde aşağıdaki uygarlıklardan hangisinin kurulduğu söylenebilir?

- A) Babiller
- B) Urartular
- C) Sümerler
- D) İyonyalılar

4.

1. Lidyalılar	→	Kral Yolu'nun yapılması
2. Sümerler	→	İlk yazının bulunması
3. Urartular	→	Paranın bulunması
4. Babiller	→	Hammurabi Kanunları'nın oluşturulması

Yukarıdaki eşleştirme tablosunda verilen bilgilerden hangisi yanlıştır?

- A) 1
- B) 2
- C) 3
- D) 4

5. Aşağıdaki öğrencilerin söylediklerinin doğru olması durumunda ampuller "yeşil," yanlış olması durumunda "kırmızı" yanmaktadır.

1 Tarihî eserlerin oluşumunda insan etkisi vardır.



2 Doğal varlıkların oluşumunda insan etkisi yoktur.



Buna göre, numaralı sistemlerdeki ampullerin renkleri aşağıdakilerin hangisinde doğru olarak verilmiştir?

- | | 1 | 2 |
|----|---|---|
| A) | | |
| B) | | |
| C) | | |
| D) | | |

6. Aşağıdakilerden hangisi Türk kültürüyle ilgili **değildir**?

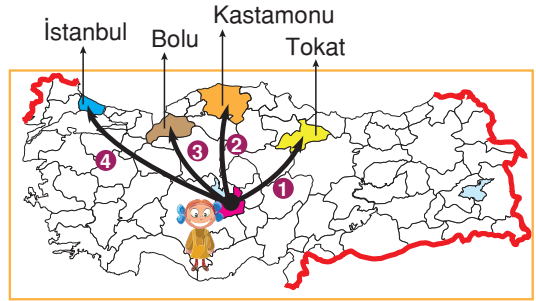
- A) Noel Baba
B) Hacivat ve Karagöz
C) Ebru sanatı
D) Bakırcılık

7.



Galata Kulesi

Hilal'in, yukarıdaki tarihî eserin olduğu yere gitmek için kaç numaralı yolu izlemesi gerekir?



- A) 1 B) 2 C) 3 D) 4

8.



Yukarıdaki yemek **daha çok** hangi bölgemizde tüketilir?

- A) Marmara Bölgesi'nde
B) Ege Bölgesi'nde
C) Karadeniz Bölgesi'nde
D) İç Anadolu Bölgesi'nde

1.

Tales ilk kez Güneş tutulmasını hesaplamıştır.

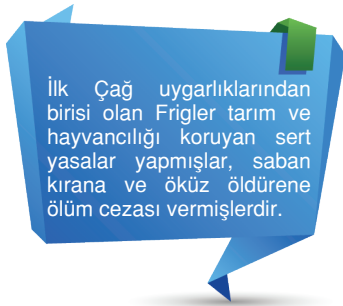
Pisagor ilk kez Dünya'nın yuvarlak olduğunu ileri sürmüştür.

Herodot tarih araştırmalarında bulunmuştur.

İyonya'daki bu gelişmelerden hangileri, bilimsel çalışmalar yapıldığını gösterir?

- A) Yalnız ve
- B) ve
- C) ve
- D) , ve

2.



Bu durum Friglerle ilgili aşağıdakilerden hangisine kanıt olarak gösterilebilir?

- A) Hükümdarın sözleri kanundur.
B) Tarıma büyük önem verilmiştir.
C) Toplumsal kurallar dine dayalıdır.
D) Ticari hayat canlıdır.

3.



Görseli verilen tarihî eser hangi ilimizde yer alır?

- A) Adana
B) İzmir
C) Antalya
D) Adıyaman

4. Geçmişte yaşamış uygarlıkların yaşadığı ve arkalarında kalıntılar bıraktıkları yerlere tarihî mekân adı verilir.

Buna göre, aşağıdakilerden hangisi tarihî mekân **değildir**?

- A) Hattuşaş
B) Efes Antik Kenti
C) Abant Gölü
D) Truva Antik Kenti

5.



Görselleri verilen tarihî eserler hangi kurum tarafından koruma altına alınır?

- A) Okul
B) Müze
C) Kütüphane
D) Hastane

6.




Verilen tarihî eserlerin bulunduğu şehirler arasında aşağıdakilerden hangisi **yoktur**?

- A) Adıyaman B) Ağrı
C) Van D) Edirne

7. Sosyal bilgiler öğretmeni, öğrencilerinden ülkemizde bulunan doğal güzelliklere örnekler vermelerini istemiştir.

Aşağıdaki öğrencilerden hangisinin verdiği örnek **yanlıştır**?



8. Aşağıda verilen kültürel öge ile ait olduğu bölge eşleştirmelerinden hangisi **yanlıştır**?

- A) Horon Karadeniz Bölgesi
B) Yağlı güreş Marmara Bölgesi
C) Baklava G.Doğu Anadolu Bölgesi
D) Çaydaçıra Akdeniz Bölgesi

9. Aşağıdakilerden hangisi mevsimlik bayramlarımızdandır?

- A) Kurban Bayramı
B) Nevruz Bayramı
C) Ramazan Bayramı
D) Zafer Bayramı

10.



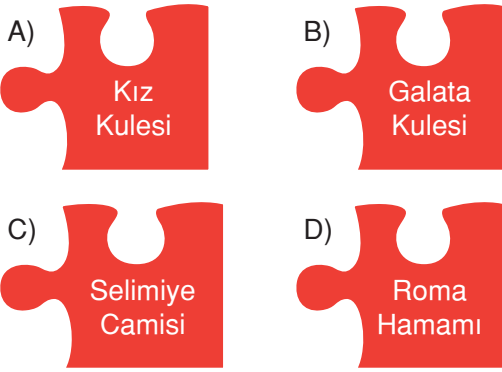
Karadeniz kıyafetleri Türkmen kıyafetleri

Verilen görsellere göre, aşağıdaki yorumlardan hangisi yapılabilir?

- A) Gelenekler ve görenekler kültürün en önemli parçasıdır.
B) Giyim - kuşam bölgelere göre farklılık gösterir.
C) İklim insan yaşamını etkilemez.
D) Halk oyunları bazı bölgelerde ortak özellik



Verilen yapboza aşağıdakilerden hangisi **ko-**
nulamaz?



2. İngiltere'den, ülkemizdeki tarihî eserleri gezme-
ye gelen bir turist grubu Karadeniz Bölgesi'ne
gitmiştir.

**Buna göre, turist grubu aşağıda verilen tarihî
eserlerden hangisini görebilir?**

- A) Nemrut Heykellerini
B) Selimiye Camisi'ni
C) Sümela Manastırı'nı
D) Dolmabahçe Sarayı'nı

3. Zeybek, hangi bölge kültürünün bir parçası-
dır?


- A) Ege Bölgesi
B) Akdeniz Bölgesi
C) Karadeniz Bölgesi
D) Marmara Bölgesi

4.

Peri bacalarına gitmek için hangi
otobüse binmeliyim?



Turistin istediği yere gidebilmesi için hangi
otobüse binmesi gerekir?



5.

Abant
Gölü

Erciyes
Dağı

Truva
Antik
Kenti

Verilen tarihî mekân ya da doğal varlıkların
bulunduğu iller arasında aşağıdakilerden
hangisi **yoktur?**

- A) Çanakkale
- B) Kayseri
- C) Bolu
- D) Sinop

6. Aşağıdakilerden hangisi Anadolu uygarlıklarından birisi **değildir**?

- A) Hititler
B) Frigler
C) Sümerler
D) Urartular

7. Aşağıdakilerden hangisi, İyonları Anadolu'da kurulan diğer uygarlıklardan ayıran özelliklerden biridir?

- A) Ticaretle uğraşmaları
B) Şehir devletleri hâlinde yaşamaları
C) Toplumsal sınıflara ayrılmaları
D) Köle emeğinden yararlanmaları

8.



Benim ülkemin kanunlarında saban kıranın ve öküz öldürmenin cezası idamdır. Kibe, baş tanrımızdır ve bize her ilkbaharda bereket getirir.

Yukarıdaki açıklamaya bakılarak, bu bilginin aşağıdaki İlk Çağ uygarlıklarından hangisine ait olduğu söylenebilir?

- A) Frigler
B) Lidyalılar
C) Hititler
D) Urartular

9. Aşağıdakilerden hangisi aile üyeleri arasında olması gereken özellikler arasında **yer almaz**?

- A) Anlayış
B) Bencillik
C) Hoşgörü
D) Yardımlaşma

10.



Balıklı Göl



Harran evleri

Verilen tarihî eserler hangi ilimizde yer alır?

- A) Şanlıurfa
B) İzmir
C) Ankara
D) İstanbul

1.




Safranbolu Evleri

Yukarıdaki doğal varlığı görmek isteyen bir kişi hangi bölgeye gitmelidir?

- A) Ege Bölgesi'ne
- B) İç Anadolu Bölgesi'ne
- C) Karadeniz Bölgesi'ne
- D) Marmara Bölgesi'ne

2.



Çiğ köfte

Etlü ekmek



İçli köfte

Hamsi tava

Görselleri verilen yemekler ile ilgili aşağıdakilerden hangisi doğrudur?

- A) 1 numaralı yemek Şanlıurfa'ya özgüdür.
- B) 2 numaralı yemek Hatay'a özgüdür.
- C) 3 numaralı yemek Karadeniz'e özgüdür.
- D) 4 numaralı yemek Antalya'ya özgüdür.

3. Aşağıdakilerden hangisi öğrencilerin okuldaki haklarından biri **değildir**?

- A) Eğitici kollara katılma hakkı
- B) Sınıf başkanı olma hakkı
- C) Kütüphaneden yararlanma hakkı
- D) Okuldan canı istediği zaman gitme hakkı

- 4. ✿ Çevreyi temiz tutmak
- ✿ Yeşil alanları korumak
- ✿ Yaya kaldırımlarını kullanmak

Yukarıdaki sorumlulukların gerçekleştirilmesi gereken yer aşağıdakilerden hangisidir?

- A) Ev
- B) Okul
- C) Sokak
- D) Sınıf

5. Gölge oyunu denilince aşağıdaki kültür değerlerinden hangisi akla gelir?

- A) Nasrettin Hoca
- B) Karagöz ve Hacivat
- C) Keloğlan
- D) Dede Korkut

6.



Kervansaraylar



Hanlar



Hamamlar

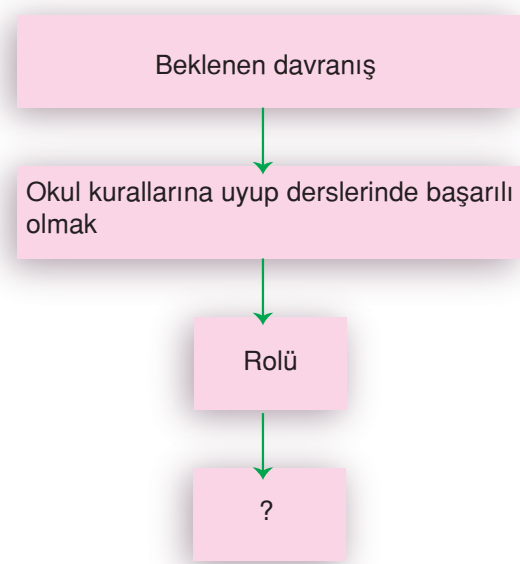


Şatolar

Numaralandırılmış yapılardan hangisi Türk kültüründe **yer almaz**?

- A) 1 B) 2 C) 3 D) 4

7.




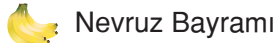

Diyagramdaki “?” olan yere, aşağıdakilerden hangisi gelmelidir?

- A) Anne B) Öğrenci
C) Kaleci D) Solist

8. Aile ile ilgili aşağıda verilen bilgilerden hangisi **yanlıştır**?

- A) Toplumun en küçük grup ve kurumudur.
B) Üyeleri arasında iş birliği ve dayanışma vardır.
C) Ailede herkesin bir rolü vardır.
D) Evdeki işler rollere uygun bir şekilde paylaşılır.

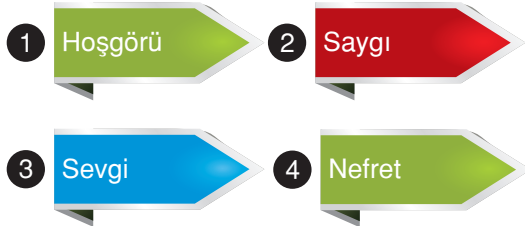
9.



Yukarıdakilerden kaç tanesi dinî bayramlarımızdandır?

- A) 1 B) 2 C) 3 D) 4

10.



Yukarıdakilerden hangisi aile bireyleri arasında bulunması gereken duygular arasında **yer almaz**?

- A) 1 B) 2 C) 3 D) 4

İNSANLAR, YERLER VE ÇEVRELER

1. Aşağıda verilen bilgiler doğru ise D, yanlış ise Y harfi yazınız.

- a. İç Anadolu Bölgemiz yıllık sıcaklık farkının en fazla olduğu bölgelerimizdendir.
- b. Yüzey şekillerinin dağlık olduğu Karadeniz bölgemizde yerleşme dağınıktır.
- c. Ülkemiz genelinde nüfus dağılımı dengelidir.
- d. Karasal iklimin bitki örtüsü ilkbaharda yeşeren bozkırlardır.
- e. Ege bölgemiz her mevsim yağışlıdır.

2. Noktalı yerlere uygun ifadeleri yazınız.

İstanbul

Doğu Anadolu
Bölgesi

Karadeniz

kahverengi






maki






- a. Türkiye'nin en yüksek bölgesi dir.
- b. Akdeniz Bölgesi'nin bitki örtüsü dir.
- c. Fiziki haritada Doğu Anadolu Bölgesi'nde en çok görülen renk dir.
- d. Çay üretimi için en uygun iklim tipi iklimidir.
- e. en çok göç alan ilimizdir.

3. Erozyonun nedenlerine (N) sonuçlarına (S) harfi yazınız.

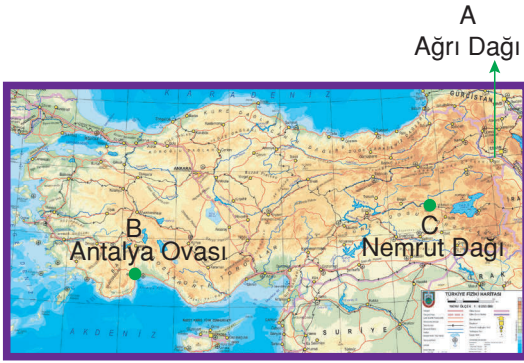
- Arazinin eğiminin çok olması
- Toprağın verimi düşer.
- Bitki örtüsü zarar görür.
- Orman yangınları
- Doğadaki denge bozulur.
- Bitki örtüsünün yok olması
- Ormanlık alanlar azalır.
- Hayvan üretimi azalır.
- Eğimli alanların teraslama yapılmaması
- Ağaçların kesilerek azalması

4. Ben hangi iklimde görürüm?

1  2  3  4  5 

6  7  8  9  10 

1.



Harita üzerindeki A, B ve C noktalarının **alçaktan yükseğe doğru sıralanışı** hangi seçenekte doğru olarak verilmiştir?

- A) A - B - C B) A - C - B
C) B - C - A D) C - A - B

2.

Derin akarsu vadileri ile parçalanmış, çevresine göre yüksekte kalan geniş düzlüklere denir. Bu yeryüzü şekli halk arasında yayla olarak da bilinir.

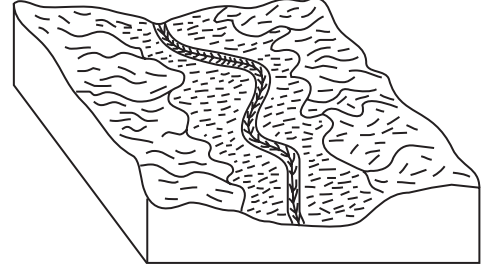
Yukarıda hangi yeryüzü şeklinin tanımı yapılmıştır?

- A) Dağ B) Ova
C) Plato D) Vadi

3. Türkiye ile ilgili aşağıdaki verilenlerden hangisi **yanlıştır**?

- A) Üç tarafı denizlerle çevrilidir.
B) Toplam yedi bölgeye ayrılmıştır.
C) Yükseltisi doğudan batıya doğru artmaktadır.
D) Dağlar doğu - batı yönünde uzanmaktadır.

4.



Görseli verilen yeryüzü şekli aşağıdakilerden hangisidir?

- A) Plato B) Vadi
C) Göl D) Okyanus

5. Fiziki haritalarda deniz, göl ve akarsular derinliklerine bakılmaksızın hangi renkle gösterilir?

- A) Mavi B) Beyaz
C) Yeşil D) Kahverengi


6.

Ülkemizin güney kıyılarını oluşturur. Geniş ve verimli ovaların yanında dağlık alanların da geniş yer kapladığı bir bölgedir. Toros Dağları bölgenin en batısından başlayıp Doğu Anadolu'ya kadar uzanan ülkemizin en uzun sıradağlarıdır. Dağlar denize paralel uzanmaktadır. Çukurova, Silifke Ovası ve Antalya Ovası dışında kıyıda düzlük alanlar azdır.

Yeryüzü şekilleri hakkında bilgi verilen bölge aşağıdakilerden hangisidir?

- A) Karadeniz Bölgesi
B) Akdeniz Bölgesi
C) İç Anadolu Bölgesi
D) Doğu Anadolu Bölgesi

7. Aşağıdaki akarsuların hangisi Karadeniz Bölgesi'nde **yer almaz**?



Kızılırmak



Yeşilirmak

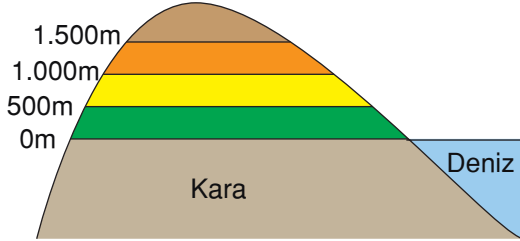


Meriç Nehri



Çoruh Nehri

8.



Haritalarda renklerin yükselti basamakları

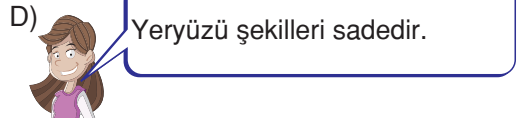
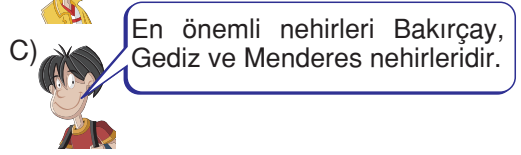
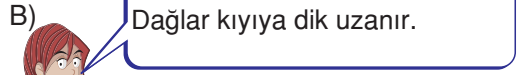
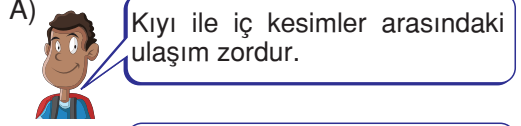


Uludağ / Yüksekliği: 1300 metre


Buna göre, görselde yer alan yeryüzü şekli haritada hangi renkle gösterilir?

- A) Sarı
B) Yeşil
C) Turuncu
D) Kahverengi

9. Aşağıdaki öğrencilerden hangisinin söylediği bilgi, Karadeniz Bölgesi'yle ilgilidir?



10. Aşağıdaki eşleştirmeleri o çizerek tamamlayınız.



Ağrı Dağı

1. Fiziki haritada Marmara Bölgesi'nde en çok görülen renk yeşildir.

Bu durum bölgeyle ilgili aşağıdakilerden hangisini kanıtlamaktadır?

- A) Yükseltisinin fazla olduğunu
B) Ormanlarla kaplı olduğunu
C) Yükseltisinin az olduğunu
D) Ovalarla kaplı olduğunu

2.

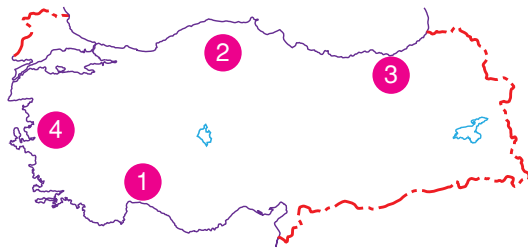


Bölgedeki dağlar denize paralel uzanır. Bu nedenle kıyı ile iç kesim arasındaki ulaşım geçitlerle sağlanır.

Yeryüzü şekilleri hakkında bilgi verilen bölge aşağıdakilerden hangisidir?

- A) Karadeniz Bölgesi
B) İç Anadolu Bölgesi
C) Doğu Anadolu Bölgesi
D) Güneydoğu Anadolu Bölgesi

3.



Türkiye haritasındaki işaretli yerlerin hangisinde kıyı ile iç kesimler arasındaki ulaşım daha kolaydır?

- A) 1 B) 2 C) 3 D) 4

4. Aşağıda verilen bölgelerimizden hangisinin alanı en büyüktür?

- A) İç Anadolu Bölgesi
B) Doğu Anadolu Bölgesi
C) Ege Bölgesi
D) Karadeniz Bölgesi

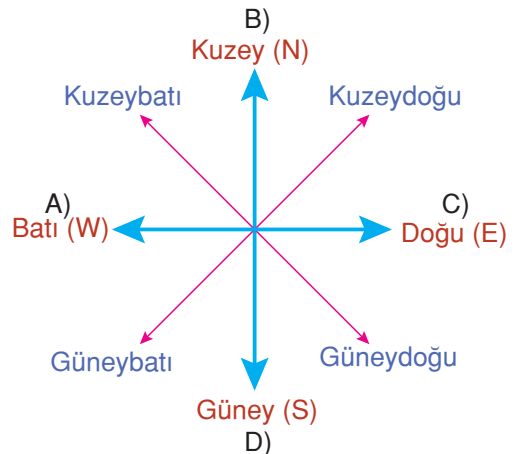
5.



Bulduğumuz noktaya göre, bir yerin konumuna yön denir. Yönler, Güneş'in doğuşuna ve batışına göre belirlenir.



Bu bilgiye göre, haritada yer alan Ankara şehri Kırıkkale şehrine göre hangi yönde yer alır?




6. Bir bölgedeki yükseltinin fazla olması o bölgedeki kar yağışının artmasına neden olur.

Bu bilgiye göre, hangi bölgedeki kar yağışlarının fazla olduğu söylenebilir?

- A) İç Anadolu Bölgesi
B) Ege Bölgesi
C) Doğu Anadolu Bölgesi
D) Marmara Bölgesi

7.



Yukarıdaki yeryüzünün denizden yükseltisi 900 metredir.

Buna göre, bu yeryüzü şekli haritada hangi renkle gösterilir?

- A) Yeşil
B) Sarı
C) Turuncu
D) Mavi

8. Ege Bölgesi için aşağıdakilerden hangisi söylenemez?

- A) Kıyıları girintili çıkıntılıdır.
B) Dağlar denize dik uzanır.
C) Koy ve körfez bakımından zengindir.
D) İç bölgelerinde Akdeniz iklimi görülür.

9. Van Gölü



Görseldeki yeryüzü şekli hangi bölgemizde yer alır?

- A) Karadeniz Bölgesi
B) Akdeniz Bölgesi
C) İç Anadolu Bölgesi
D) Doğu Anadolu Bölgesi

10. Aşağıdaki bilgilerin ilgili olduğu alanı "✓" sembolüyle işaretleyiniz.

		Akdeniz Bölgesi	Ege Bölgesi
a.	Dağlar denize dik olarak uzanır.		
b.	Kıyı ile iç kesimler arasındaki ulaşım kolaydır.		
c.	Kıyı ile iç kesimler arasındaki ulaşım zordur.		
d.	Dağlar denize paralel olarak uzanır.		

1.



- ★ Akdeniz ikliminin görüldüğü yerlerde bulunur.
- ★ Kısa boylu çalılardır.

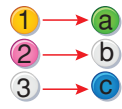
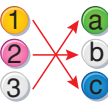

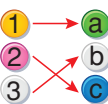
Özelliklerinden bahsedilen bitki örtüsü aşağıdakilerden hangisidir?

- A) Maki B) Orman
C) Bozkır D) Çayır

2.

1		a	Akdeniz iklimi
	Toprak evler		
2		b	Karadeniz iklimi
	Ahşap evler		
3		c	Karasal iklim
	Taş evler		

Yukarıdaki iklim ve konut tipi eşleştirmesi hangi seçenekte doğru verilmiştir?

- A)  B) 
- C)  D) 

3. • Bölgedeki iklim narenciyenin yetişmesine olanak sağlamıştır.
• Yazların sıcak geçmesi deniz turizminin gelişmesine olanak sağlamıştır.

Yukarıda hangi iklimin özellikleri hakkında bilgi verilmiştir?

- A) Akdeniz iklimi
B) Karadeniz iklimi
C) Marmara iklimi
D) Karasal iklim

4. Ülkemizde birden fazla iklim koşulları görülmesinin sebebi ülkemizin hangi özelliğinin farklı olmasından kaynaklanmaktadır?

- A) Nüfus
B) Yeryüzü şekilleri
C) Bitki örtüsü
D) Ormanların dağılışı

5. Bir öğrenci aşağıdaki bilgileri okuyor. Okunan bilgi doğru ise “☺” işaretini, yanlış ise “☹” işaretini çiziyor.

1 Sıcaklık, rüzgâr, yağış gibi oluşumlar hava olayıdır.

2 Kısa bir süre bir yerdeki hava olaylarına hava durumu denir.

Buna göre, bu öğrenci sırasıyla hangi işaretleri çizer?

- A) ☺ ve ☺ B) ☹ ve ☹
C) ☺ ve ☹ D) ☹ ve ☺

6. ★ Yağmur
★ Kar
★ Buz
★ Sis
★ Bulut

Yukarıdakilerden kaç tanesi sudur?

- A) 2 B) 3 C) 4 D) 5

7. Türkiye'nin iklim koşulları düşünüldüğünde yıllık sıcaklık farkının **en fazla** olduğu bölge aşağıdakilerden hangisidir?

- A) İç Anadolu Bölgesi
B) Doğu Anadolu Bölgesi
C) Ege Bölgesi
D) Marmara Bölgesi

8. Türkiye'de Akdeniz iklimi, Karadeniz iklimi, Karasal iklim olmak üzere üç iklim tipi görülmektedir.

	Akdeniz İklimi	Karadeniz İklimi	Karasal İklim
Görüldüğü Şehir	1	2	3

Tablodaki 1, 2 ve 3 numaralı yerlere aşağıdakilerden hangisi getirilebilir?

- A) 1. Rize
2. Erzurum
3. Antalya
- B) 1. Antalya
2. Rize
3. Erzurum
- C) 1. Erzurum
2. Rize
3. Antalya
- D) 1. Rize
2. Antalya
3. Erzurum

9. Bir bölgede kışların yoğun kar yağışlı geçmesi o bölgedeki yakıt giderlerinin artmasına neden olur.

Türkiye'deki iklim koşullarına göre, aşağıdaki merkezlerin hangisinde yakıt giderleri **daha az** olur?



10. Aşağıdaki bilgileri doğru ya da yanlış olarak değerlendiriniz.

	D	Y
a. İklim, konut tipini etkiler.		
b. Ülkemizde birden fazla iklim etkilidir.		
c. Deniz turizmine en uygun iklim tipi Karadeniz iklimidir.		
d. Bulut, suyun buharlaşması ile oluşur.		

1. Bir yerde hava olaylarının uzun süreli ortalamasına iklim denir.

Aşağıdakilerden hangisi öncelikle iklimin etkisiyle oluşmuştur?

- A)  Marmara Bölgesi'nin ortalama yükseltisinin az olması
- B)  Karadeniz Bölgesi'nde yağış miktarının fazla olması
- C)  Akdeniz Bölgesi'nde dağların kıyıya paralel uzanması
- D)  Türkiye'nin en yüksek bölgesinin Doğu Anadolu Bölgesi olması

2.



Yukarıdakilerden kaç tanesi iklimden etkilenir?

- A) 1 B) 2 C) 3 D) 4

3.



Yukarıdaki meyveler hangi iklim türünde daha rahat yetişir?

- A) Marmara ikliminde
B) Karadeniz ikliminde
C) Akdeniz ikliminde
D) Karasal iklimde

4. Aşağıdaki şehir gruplarının hangisinde benzer iklim koşulları görülür?



5. Karasal iklimin bitki örtüsü ilkbahar yağışları ile yeşeren, yaz kuraklığı ile kuruyan bozkırlardır. Buna göre, aşağıdakilerin hangisinde bozkır bitki örtüsü görülmez?
- A) Konya B) Rize
C) Erzurum D) Edirne

6. Aşağıdaki kavram haritasında Türkiye’de görülen iklimler ile bu iklimlerin etkili olduğu merkezler verilmiştir.

İklimler	Etkili olduğu merkezler
Karadeniz iklimi	Rize
Akdeniz iklimi	İzmir
Karasal iklim	?




Buna göre, kavram haritasındaki “?” olan yere aşağıdakilerden hangisi yazılabilir?

- A) Konya B) Antalya
C) Adana D) Sinop
7. Ülkemizde hava tahminleri aşağıdaki kurumların hangisi tarafından yapılır?
- A) Devlet Su İşleri Genel Müdürlüğü
B) Devlet Meteoroloji İşleri Genel Müdürlüğü
C) Devlet Demir Yolları
D) Devlet Radyo ve Televizyon Kurumu

8.



Öğretmenin sorusuna hangi öğrenci doğru yanıt vermiştir?

- A)  Yazları sıcak ve kuraktır.
- B)  Kışları soğuk ve kar yağışlıdır.
- C)  Bitki örtüsü makidir.
- D)  Her mevsimi yağışlıdır.

9. Aşağıdaki eksik cümleleri, karşısındaki ifadeden uygun olanıyla tamamlayınız. Uygun ifadelerin başındaki kutuya “✓” işareti koyunuz.

a. Karadeniz ikliminin bitki örtüsü	<input type="checkbox"/> ormandır.
	<input type="checkbox"/> makidir.
b. Akdeniz ikliminin bitki örtüsü	<input type="checkbox"/> bozkırdır.
	<input type="checkbox"/> Karadeniz iklimi görülür.
c. Rize’de	<input type="checkbox"/> Akdeniz iklimi görülür.
	<input type="checkbox"/> ılıktır.
d. Karasal iklimin kışı	<input type="checkbox"/> soğuktur.

1.



Görseldeki ekonomik etkinlik hangi bölgede daha yaygındır?

- A) Marmara Bölgesi'nde
- B) Akdeniz Bölgesi'nde
- C) İç Anadolu Bölgesi'nde
- D) Karadeniz Bölgesi'nde

2.

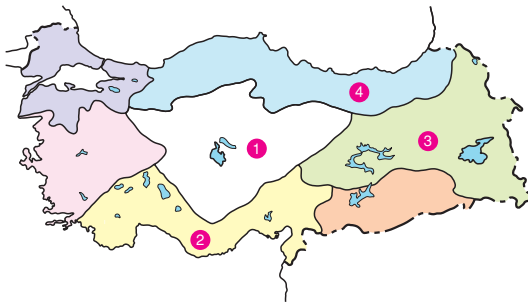


Sayın seyirciler yoğun kar yağışından dolayı birçok köy yolu kapandı. İnsanlar yollarda kaldı. Kar kalınlığı bir metreyi aştı.

Haber spikerinin söz ettiği yer aşağıdakilerden hangisi **olamaz**?

- A) Hakkâri
- B) Van
- C) Antalya
- D) Bitlis

3.



Harita üzerindeki numaralı yerlerin hangisinde şemsiye kullanımı daha yaygındır?

- A) 1
- B) 2
- C) 3
- D) 4

4.

• Yağışlar fazla olduğundan şemsiye, bölge ikliminin vazgeçilmez eşyasıdır.

• Çay tarımı için en uygun iklim türüdür.

Yukarıda hangi iklimin özellikleri hakkında bilgi verilmiştir?

- A) Akdeniz iklimi
- B) Karadeniz iklimi
- C) Marmara iklimi
- D) Karasal iklim

5.

- ✿ Rüzgâr
- ◆ Nüfus
- ▲ Yağış
- Tarım

Verilenlerden hangileri hava olayıdır?

- A) ✿ ve ◆
- B) ✿ ve ▲
- C) ◆ ve ▲
- D) ▲ ve ■

6.

Aşağıdaki hava olaylarından hangisi tarımda çalışanların hayatlarını olumlu etkiler?

- A) Don
- B) Yağmur
- C) Sis
- D) Kar